

木材産業特定技能 1号測定試験（インドネシア会場）受験案内

試験の概要

1 試験の形式、問題数及び試験時間等

- ・実施方法：ペーパーテスト方式
- ・試験言語：日本語（すべての漢字にふりがなが付いたもの）
- ・試験時間：60分
- ・問題数：全35問
 - ① 学科試験（32問）… 出題形式は真偽法（○×式）です。
 - ② 実技試験（3問）… 図等を用いた状況設定において正しい判別、判断を行わせる「判断等試験」により行います。

2 試験の範囲及びサンプル問題

試験の出題範囲は次のとおりです。

なお、試験の出題内容に関する個別のお問い合わせにはお答えできません。

	大項目	小項目（例示）
学科試験（一般） 配点：56点	森林・林業・木材産業の概要	森林/林業/木材の用途/
	木材の性質	樹木の種類/含水率/丸太/年輪/木目
	作業安全	労働災害/安全点検/保護具
学科試験（専門） 配点：18点	各製品の製造作業	製材/集成材/合板・LVL/チップ/フローリング/ツキ板/プレカット/
	使われる機械・装置	
	各製品の利用	
実技試験 配点：26点	作業の手順/安全衛生/計算問題	

* サンプル問題（学科10問・実技2問）はP6～10に掲載

3 合否の基準

学科試験・実技試験の合計得点の65%以上

4 合否の通知方法

試験実施後1か月以内に、全木連HPに合格者の受験番号を掲載します。

5 受験料等について

受験料 国外試験（インドネシア）：350,000 IDR

【留意事項】

- ・振込手数料は申請者負担とします。
- ・一旦納付された受験料等は、自然災害等により試験が実施できない場合等を除き返還できません。

6 試験開催情報

日程：2025年2月19日(水)，20日(木)

会場：スマラン家具・木材加工業ポリテクニク（PIFPK）

規模：30人×4回

（①2/19 12:00～，②2/19 16:00～，③2/20 9:00～，④2/20 12:00～）

申込期間：2025年1月20日～2月7日

* 開始時間等は、会場の都合等により変更することがあります。

7 受験申込手続のご案内

【受験資格】

- ・インドネシア国籍の方は、試験日において満18歳以上の者（その他の国籍の方は、満17歳以上の者）
- ・学歴不問

【申込方法】

- ・必要事項を記入した受験申請書（様式）を、申込期間内に下記の宛先までメールで送付してください。
（申込先）スマラン家具・木材加工業ポリテクニク（PIFPK）
ssw_perkayuan@poltek-furnitur.ac.id
- ・受験希望者は、IDカード(KTP)の写し（写真で可。IDカード(KTP)を所持していない場合はパスポートの写し）を受験申請書に添付してください。
- ・申請書の内容を確認後、スマラン家具・木材加工業ポリテクニク（以下、PIFPKという。）から受験料の納付方法と納付期限をお知らせします。PIFPKが入金を確認した時点で受験申請の受付が成立します。
- ・受付が成立した場合は、試験当日までに、日本の試験実施機関から申請時に登録された連絡用メールアドレスに受験票を送付します。
- ・申込時に提供いただいた個人情報の一部及び試験の可否について、開催地政府機関からの要請に基づき、第三者に提供することがあります。

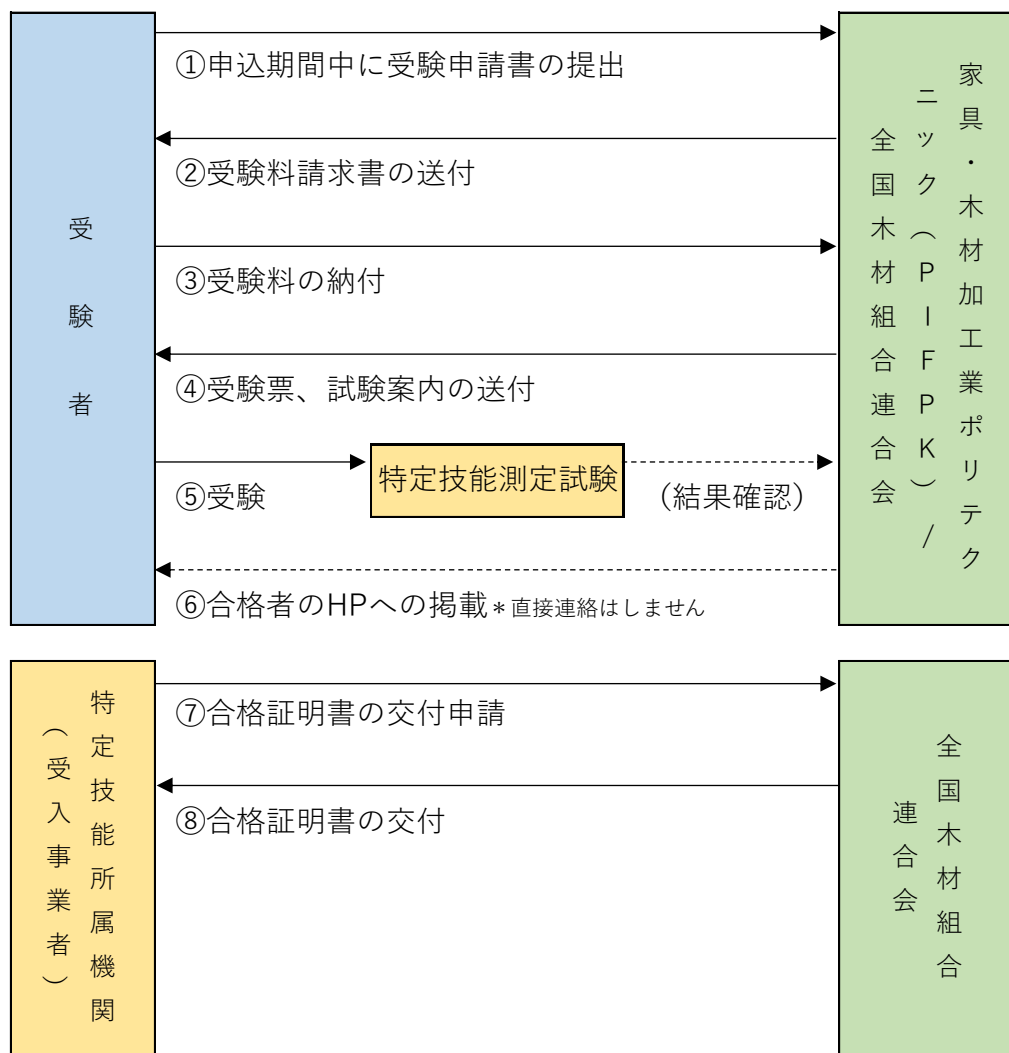
【留意事項】

- ・日本国籍の者は受験することができません。
- ・同会場で行われる試験を複数回受験することはできません。
- ・収容人数に達した場合、期間内でも受験申請の受付を終了する事があります。
- ・試験に合格することができたとしても、そのことをもって「特定技能」の在留資格が付与されることを保証したものではありません。また、試験合格者に係る在留資格認定証明書交付申請又は在留資格変更許可申請がなされたとしても、必ずしも在留資格認定証明書の交付や在留資格変更の許可を受けられるものではありません。

受験の申込

1 受験の申込手続きのフローチャート

以下の流れで受験の申込手続きを行ってください。



2 受験申請書等の提出

受験者は、PIFPKに「木材産業分野特定技能測定試験受験申請書」をメールで提出して下さい。

受験申請書に必要な事項を記入のうえ、顔写真の画像を貼り付けるとともに、IDカード(KTP)の写しも併せて送付して下さい。

3 受験料の納付

受験者は、PIFPK から送付された受験料請求書に基づき、指定された銀行口座に振り込んでください。

なお、お振込み後のキャンセルについては、①試験実施機関の責めに帰すべき理由がある場合、②自然災害等により試験が実施できない場合（代替の試験が実施された場合を除く）を除き、受験料は返金しません。

（受験料）

350,000 IDR * 振込手数料は受験者本人の負担です。

4 受験票及び試験案内の送付

受験料の入金を確認した時点で受験申請の受付が成立します。その後、試験実施日の約2週間前を目途に受験票をメールで送付します。

一週間前になっても届かない場合には、PIFPK へお問合せ下さい。

5 試験結果の通知

試験実施後 1 ヶ月以内に、全国木材組合連合会ホームページで合格者の受験番号を掲載します。（*メール等での受験者本人への連絡はいたしません。）

【インドネシア申請窓口】

スマラン家具・木材加工業ポリテクニク（PIFPK）

Jl. Wanamarta Raya No. 20-Kawasan Industri Kendal, Kendal-Jawa Tengah 51371

E-mail : ssw_perkayuan@poltek-furnitur.ac.id

もくざいさんぎょうとくていぎのう ごうそくていしけん
木材産業 特定技能 1号測定試験

もんだい
サンプル問題

がっかしけん
学科試験

(1) ~ (10) の問題の答えは、正しい又は誤りのどちらかです。

かいとうれい
〔解答例〕

こた かた かいとうれい か
答え方は、解答例のように書きなさい

かいとうらん 解答欄
○

① こた ただ おも ばあい かいとうらん か
答えが正しいと思う場合は解答欄に○を書きなさい。

かいとうらん 解答欄
×

② こた あやま おも ばあい かいとうらん か
答えが誤りと思う場合は解答欄に×を書きなさい。

(1) てんねんりん ひと なえぎ う そだ しんりん
天然林は人が苗木を植えて育てた森林です。

かいとうらん 解答欄

(2) もくざい てつ くら せいぞう かこう ひつよう
木材は鉄やアルミニウムに比べて製造や加工に必要な
エネルギーは少ないです。

かいとうらん 解答欄

(3) にほん さむ ちほう おお こうようじゅ
カラマツは日本の寒い地方に多い広葉樹です。

かいとうらん 解答欄

(4) 木工機械もっこうきかいを使うときは、いつも手袋てぶくろをはめて作業さぎょうを行います。

かいとうらん 解答欄

(5) 機械きかいの運転中うんでんちゆうに素手すででのこ屑くずや端材はざいを取り除ときます。

かいとうらん 解答欄

(6) 作業さぎょうの妨さまたげになるときは安全装置あんぜんそうちの位置いちをずらします。

かいとうらん 解答欄

(7) 製材品せいざいひんの長さなが決めをする工程こうていを横切よこぎりといいます。

かいとうらん 解答欄

(8) 合板ごうばんを接着せつちやくするときには接着剤せつちやくざいを固かためるため、
熱ねつはかけずに圧力あつりょくだけをかけます。

かいとうらん 解答欄

(9) 集成材しゅうせいざいを作つくるときには、ラミナらみなの大きな節おおや割れふしなどを
取り除ときます。

かいとうらん 解答欄

(10) プレカットで加工かこうする材料ざいりょうは、未乾燥みかんそうのものが多おほいです。

かいとうらん 解答欄

じつぎしけん
実技試験

あんぜんえいせい
【安全衛生】

しゃしん まる せいざい しゃしん み かんが きけん
写真は丸のこで製材をしているところです。写真を見て考えられる危険につ
いてア～カから2つ選び解答欄にそのカタカナを書きなさい。

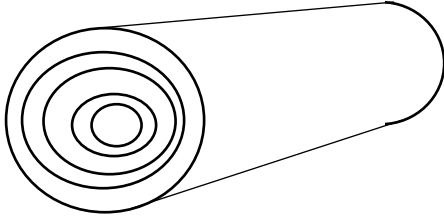


- ア てぶくろ はめていないので感電する
イ さぎょうちゆう てるらく
作業中に転落する
ウ ざい は かえ
材が跳ね返ってぶつかる
エ しゃこう めがねをしていないので目を傷める
オ ゆか もの つまらずいて転ぶ
カ かみ け ま こ
髪の毛が巻き込まれる

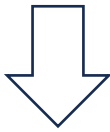
かいとうらん 解答欄	()・()
---------------	-------------------

けいさんもんだい
【計算問題】

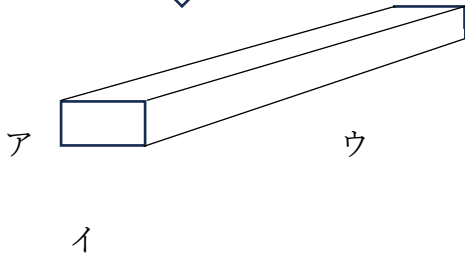
まるた せいざい かくざい つく
丸太を製材して角材を作りました。その時の角材の材積と丸太の製材歩止まりを計算しなさい。



まるた せいざい
丸太 材積 0.8 m^3



かくざい あつ せいざい はば なが
角材 ア厚さ 20cm イ幅 40cm ウ長さ 4m



かいとうらん 解答欄	かくざい せいざい 角材の材積 $\square.\square\square \text{ m}^3$	ぶど 歩止まり $\square\square.\square \%$
---------------	---	--

サンプル問題の正答

がっかしけん 学科試験

(1)	(2)	(3)	(4)	(5)
×	○	×	×	×
(6)	(7)	(8)	(9)	(10)
×	○	×	○	×

じつぎしけん 実技試験

あんぜんえいせい 安全衛生

(ウ) ・ (オ)

けいさんもんだい 計算問題

かくざい ざいせき 角材の材積 0.32 m³ ぶど 歩止まり 40.0%